


Name: _____


Datum: _____

1



Wie heißt die Zahl?




__ H __ Z = __



__ H __ Z = __



__ H __ Z = __




2


Wie heißt die Zahl?



__ H __ Z __ E = __



__ H __ Z __ E = __



__ H __ Z __ E = __



Name: _____

Datum: _____

3

Zeichne. Wie heißen die Zahlen?

Beispiel:

$$2Z \ 3H \ 4E = 324$$



$$5E \ 6Z \ 1H = \underline{\hspace{2cm}}$$

$$5Z \ 7E \ 4H = \underline{\hspace{2cm}}$$

$$5H \ 0E \ 6Z = \underline{\hspace{2cm}}$$

4

Ordne nach der Größe. Beginne mit der größten Zahl.
Als Hilfe kannst du die Zahlen auch zeichnen.

835, 498, 102, 738, 365, 120, 315, 78

Beginne mit der kleinsten Zahl.

492, 712, 978, 987, 305, 491, 246, 350

Name: _____

Datum: _____

5

Zeichne und rechne.

Beispiel:

$$354 + 200 = 554$$



$$281 + 400 = \underline{\hspace{2cm}}$$

$$613 + 100 = \underline{\hspace{2cm}}$$

6

Zeichne, streiche durch und rechne.

Beispiel:

$$652 - 200 = 554$$



$$761 - 400 = \underline{\hspace{2cm}}$$

$$625 - 600 = \underline{\hspace{2cm}}$$

7

Zeichne und rechne diese Aufgaben genauso.

$$450 + 220 = \underline{\hspace{2cm}}$$

$$560 + 310 = \underline{\hspace{2cm}}$$

$$320 + 450 = \underline{\hspace{2cm}}$$

Name: _____

Datum: _____

8

Zeichne und rechne diese Aufgaben genauso.
Streiche durch.

$$630 - 210 = \underline{\hspace{2cm}}$$

$$540 - 320 = \underline{\hspace{2cm}}$$

$$460 - 150 = \underline{\hspace{2cm}}$$

9

Zeichne und rechne.

$$623 + 244 = \underline{\hspace{2cm}}$$

$$245 + 311 = \underline{\hspace{2cm}}$$

$$416 + 251 = \underline{\hspace{2cm}}$$

10

Zeichne und streiche durch.

$$462 - 211 = \underline{\hspace{2cm}}$$

$$654 - 331 = \underline{\hspace{2cm}}$$

$$567 - 125 = \underline{\hspace{2cm}}$$

11

Nimm einen Würfel. Würfle 3 Mal. Bilde drei verschiedene Zahlen und schreibe sie auf ein Plakat. Zeichne die Zahlen. Finde viele Aufgaben zu den Zahlen.